

CERTIFICAT D'APTITUDE PROFESSIONNELLE

FLEURISTE

Session 2023

EP1

PREPARATION ET CONFECTION D'UNE PRODUCTION FLORALE

PARTIE ECRITE

SUJET

Durée : 2 H 30

Coefficient 6 : (Pour la totalité de l'épreuve)

Ce sujet se compose de 18 pages numérotées de **1/18** à **18/18**
Dès que le sujet vous est remis, assurez-vous qu'il est complet.

Aucun document n'est autorisé

L'usage de calculatrice avec mode examen actif est autorisé.
L'usage de calculatrice sans mémoire, « type collègue » est autorisé.

CERTIFICAT D'APTITUDE PROFESSIONNELLE FLEURISTE	2306-CAP FLEUR EP1 BIS
EP1 (UP1) : Préparation et confection d'une production florale	Session 2023
Épreuve écrite : 2 heures 30	Coefficient : 6 Page 1/18



La boutique **ART & FLEURS** vient d'être retenue pour être fleuriste partenaire des Jeux Olympiques 2024 de PARIS. Une belle surprise pour l'entreprise fière de rejoindre l'aventure !

Vous allez réaliser des bouquets, des compositions, ainsi que des bracelets floraux qui seront portés par des jeunes filles lors de l'ouverture des Jeux Olympiques.



CERTIFICAT D'APTITUDE PROFESSIONNELLE FLEURISTE	2306-CAP FLEUR EP1 BIS
EP1 (UP1) : Préparation et confection d'une production florale	Session 2023
Épreuve écrite : 2 heures 30	Coefficient : 6
	Page 2/18




Ce matin, une livraison de végétaux est prévue afin de confectionner l'ensemble des réalisations. Le responsable du magasin souhaite vous confier la réception.

1. **Énumérer** au moins trois activités à réaliser avant l'arrivage des végétaux coupés.

-
-
-

Votre première cliente souhaite offrir une plante fleurie à son amie Sophie dont l'appartement manque de luminosité. Elle a repéré, dans votre boutique, les plantes suivantes :

2. **Identifier** les trois plantes (nom usuel)

A	B	C
		
▪	▪	▪

Vous lui conseillez la plante qui correspond à ses attentes.

3. **Proposer** la plante la mieux adaptée.

.....

4. **Formuler** trois critères d'entretien de cette plante.

-
-
-

CERTIFICAT D'APTITUDE PROFESSIONNELLE FLEURISTE		2306-CAP FLEUR EP1 BIS	
EP1 (UP1) : Préparation et confection d'une production florale		Session 2023	
Épreuve écrite : 2 heures 30		Coefficient : 6	Page 3/18

La cliente souhaite offrir la plante dans un cache-pot. Vous lui proposez le cache pot le plus adapté à un intérieur chic et contemporain.

5. **Choisir, à l'aide d'une croix dans la ou les cases appropriées,** le produit adapté à la plante choisie par la cliente.






Justifier votre choix :








.....

.....

Votre employeur arrive du marché aux fleurs. Vous réceptionnez la marchandise afin de réaliser l'entretien des végétaux qui seront présentés dans la vitrine.

6. **Identifier** sur le tableau les végétaux coupés et l'entretien nécessaire :

Fleurs coupées	Nom commun	Nom d'espèce	Tige à cautériser	Tige à Couper en biseau	Tige à écraser ou casser
					
					
					

Fleurs coupées	Nom commun	Nom d'espèce	Tige à cautériser	Tige à couper en biseau	Tige à écraser ou casser
					
					
					
					
					
					
					

Un peu plus tard dans la matinée, madame Douglas, une cliente très fidèle, vous demande de réaliser un bouquet de longues tiges lui rappelant la Guadeloupe.

7. **Proposer** au moins deux végétaux du tableau (pages 4 et 5) qui peuvent être associés à l'Anthurium pour la réalisation du bouquet et **justifier** ce choix.

.....

Justifier vos choix :

.....

Le comité organisateur des Jeux Olympiques souhaite agrémenter les pièces à vivre de la villa olympique.

Votre responsable vous demande de réaliser **un arrangement de plantes d'intérieur** qui sera placé sur la table d'un salon près d'une grande fenêtre (exemple d'aménagement sur la photo ci-dessous). Cette réalisation respectera un équilibre asymétrique.



CERTIFICAT D'APTITUDE PROFESSIONNELLE FLEURISTE	2306-CAP FLEUR EP1 BIS
EP1 (UP1) : Préparation et confection d'une production florale	Session 2023
Épreuve écrite : 2 heures 30	Coefficient : 6 Page 6/18







Pour vous aider à réaliser cette composition, vous avez collecté les visuels suivants.





8. **Cocher**, dans le tableau ci-dessous, le principe ainsi que le ou les rythmes de composition correspondants aux visuels ci-dessus.

	1	2	3	4	5	6	7	8	9	10
<i>Principe</i>										
Symétrique										
Asymétrique										
<i>Rythme</i>										
Répétitif										
Changement d'échelle										

9. **Identifier** les plantes mises à votre disposition pour la réalisation de cet arrangement.

Plante	Nom commun	Nom d'espèce
		
		
		
		
		
		

Plante	Nom commun	Nom d'espèce
		
		

10. **Choisir** 5 plantes parmi celles que vous venez d'identifier pour réaliser l'arrangement souhaité.

-
-
-
-
-

11. **Justifier** ces choix en complétant le tableau ci-dessous :

Justification de vos choix pour cette composition	Conseils d'entretien (3 critères attendus)	Substrat utilisé	Étapes de réalisation (3 critères attendus)

Une fois votre arrangement achevé, vous remettez votre plan de travail en état.

CERTIFICAT D'APTITUDE PROFESSIONNELLE FLEURISTE		2306-CAP FLEUR EP1 BIS	
EP1 (UP1) : Préparation et confection d'une production florale		Session 2023	
Épreuve écrite : 2 heures 30		Coefficient : 6	Page 9/18

12. Détailler au moins trois actions différentes d'entretien et de tri dans le respect des consignes d'hygiène et de sécurité (3 réponses attendues)

-
-
-

Votre responsable vous demande de réaliser un prototype de bracelet floral qui sera porté par les jeunes filles lors de la cérémonie d'ouverture des Jeux Olympiques. Vous utiliserez des fleurs entières et/ou de façon décomposée (végétal ci-dessous).




13. Sélectionner au moins trois parties du végétal et expliquer comment vous allez les préparer pour les transformer dans le cadre de la réalisation du bracelet (3 réponses minimum attendues)

-
-
-
-
-

CERTIFICAT D'APTITUDE PROFESSIONNELLE FLEURISTE	2306-CAP FLEUR EP1 BIS
EP1 (UP1) : Préparation et confection d'une production florale	Session 2023
Épreuve écrite : 2 heures 30	Coefficient : 6 Page 10/18

Vous sélectionnez différents visuels qui vous guideront dans vos choix.

14. Observer les visuels ci-dessous et **cocher** la gamme colorée qui convient



camaïeu de couleur

contraste de couleur



camaïeu de couleur

contraste de couleur



camaïeu de couleur

contraste de couleur



camaïeu de couleur

contraste de couleur



camaïeu de couleur

contraste de couleur



camaïeu de couleur

contraste de couleur

Votre responsable vous demande de réaliser un prototype de bracelet floral sur l'un des

rubans de votre choix : bleu, jaune, rouge, vert.



15. À partir des analyses (**pages 7/18 et 12/18**) et des végétaux en **document 1 (page 14,15/18)**, Réaliser deux recherches de bracelet en respectant le cahier des charges suivant :

- **Réaliser** au crayon, sous forme de croquis colorés, deux recherches différentes de bracelet floral ;
- **Choisir** un des principes de composition parmi symétrie et asymétrie ;
- **Associer** un rythme de composition (répétition ou changement d'échelle) ;
- **Utiliser** tout ou partie des végétaux du **document 1** (planche documentaire page 14,15)
- **Respecter** l'échelle des végétaux.
- **Annoter** vos croquis en indiquant les végétaux.

CERTIFICAT D'APTITUDE PROFESSIONNELLE FLEURISTE		2306-CAP FLEUR EP1 BIS	
EP1 (UP1) : Préparation et confection d'une production florale		Session 2023	
Épreuve écrite : 2 heures 30		Coefficient : 6	Page 11/18

Compléter les deux propositions dans le respect du cahier des charges :

PROPOSITION 1

Principes de composition

- Symétrie
- Asymétrie

Principes de rythme

- Répétition
- Changement d'échelle

Gamme colorée retenue

- Camaïeu de couleur
- Contraste de couleur



Ruban support du bracelet

PROPOSITION 2

Principes de composition

- Symétrie
- Asymétrie

Principes de rythme

- Répétition
- Changement d'échelle

Gamme colorée retenue

- Camaïeu de couleur
- Contraste de couleur

Ruban support du bracelet 2

16. Réaliser la mise en couleur finale à partir de la proposition que vous avez retenue.

- **Cocher** les principes de composition retenus dans vos croquis.
- **Choisir** une des deux propositions et la finaliser en couleur (ruban et composition florale)

Choisir l'ambiance colorée (camaïeu de couleur ou contraste) et le travailler en volume

PROPOSITION FINALE N°

En couleur (ruban + composition)

Ambiance colorée en camaïeu ou contrastée

Effet de volume

Ruban support du bracelet retenu

CERTIFICAT D'APTITUDE PROFESSIONNELLE FLEURISTE	2306-CAP FLEUR EP1 BIS
EP1 (UP1) : Préparation et confection d'une production florale	Session 2023
Épreuve écrite : 2 heures 30	Coefficient : 6 Page 13/18

17. Sélectionner un des deux projets, **justifier et argumenter** votre choix

.....

.....

En cette fin de journée vous réceptionnez une livraison de vases et de fournitures diverses de votre fournisseur FLORA-PLANTES. Vous prenez connaissance des documents liés à la commande. (document 2, annexe 1)


18. Repérer les éventuelles anomalies en les entourant sur l'annexe 1 (page 17) :

Votre responsable est pour le moment absent : vous décidez, avant de partir, de lui faire part des anomalies trouvées



19. Lister les anomalies repérées sur **l'annexe 2** :

CERTIFICAT D'APTITUDE PROFESSIONNELLE FLEURISTE	2306-CAP FLEUR EP1 BIS
EP1 (UP1) : Préparation et confection d'une production florale	Session 2023
Épreuve écrite : 2 heures 30	Coefficient : 6 Page 14/18

Document 1 – planche documentaire



Document 2 – Bon de commande Arts & Fleurs

		<h1>BON DE COMMANDE N° 901/23</h1>		
Arts & Fleurs S.A.R.L. au capital de 10 000 € 36 rue de Chateaudun 75009 PARIS CEDEX 9 Téléphone : 01 45 78 23 00 Siret 479996852 N° TVA intracomm. FR57479996852 Contact : M. MINARI		A : Flora Plantes Adresse : 4 rue de la République 60360 CREVECOEUR LE GRAND		
Date : 26/05/2023				
Désignation	Prix unitaire	Quantité	Montant HT	Remarques
VASE BOULE (Lot de 2)	10,00 €	9,00	90,00 €	
SOLIFLOR	10,00 €	12,00	120,00 €	
BINDWIRE	7,30 €	5,00	36,50 €	
FIL ALUMINIUM ARGENT	11,27	15,00	169,05	
BOBINE DE FIL BOUILLON	7,23	5,00	36,15	
TOTAL € HT			451,70	
Conditions de paiement :			TTC	542,04
Paiement comptant à réception			TVA 20 %	90,34 €
Date de livraison souhaitée :				
02-juin-23				
Signature et tampon :				

CERTIFICAT D'APTITUDE PROFESSIONNELLE FLEURISTE		2306-CAP FLEUR EP1 BIS	
EP1 (UP1) : Préparation et confection d'une production florale		Session 2023	
Épreuve écrite : 2 heures 30		Coefficient : 6	Page 16/18

Annexe 1 - Facture fournisseur Flora Plantes



Flora Plantes

Votre partenaires plantes et accessoires

4 rue de la République
60360 CREVECOEUR LE GRAND
France

Tél. : 02 34 56 78 90

www.floraplantes.fr

SIRET 52153314300018

n° de TVA FR77521533143

Facture n° 2023/1234

Date :

ART et FLEURS
36 rue de Châteaudun
75009 PARIS CEDEX 9
France
Contact : M. MINARI

Description	Qté	Prix Unitaire	TVA	Total HT
Vase boule (lot de 2)	6	3,20 €	20%	€ 19,20
Soliflore	12	9,80 €	20%	€ 117,60
Bindwire	5	7,30 €	20%	€ 36,50
Fil aluminium or (1 mètre)	14	11,27 €	20%	€ 157,78
Bobine de fil bouillon or	5	7,23 €	20%	€ 36,15
Carton de mousse	1	29,99 €	20%	€ 29,99
Livraison par camion				
Conditions de paiement			Total net HT	397,22 €
Par chèque ou virement au comptant - escompte de 5 % en cas de paiement à réception de facture			TVA	20,00%
IBAN FR76 3100 4100 5287 768978			Remise	0,00%
			Total TTC :	476,66 €

CERTIFICAT D'APTITUDE PROFESSIONNELLE FLEURISTE

2306-CAP FLEUR EP1 BIS

EP1 (UP1) : Préparation et confection d'une production florale

Session 2023

Épreuve écrite : 2 heures 30

Coefficient : 6

Page 17/18

Annexe 2 – Page d'un bloc note



CERTIFICAT D'APTITUDE PROFESSIONNELLE FLEURISTE	2306-CAP FLEUR EP1 BIS
EP1 (UP1) : Préparation et confection d'une production florale	Session 2023
Épreuve écrite : 2 heures 30	Coefficient : 6 Page 18/18