

Session 2021

CERTIFICAT D'APTITUDE PROFESSIONNELLE

FLEURISTE

EP1

PREPARATION ET CONFECTION D'UNE PRODUCTION FLORALE

PARTIE ECRITE

SUJET

Durée : 2 H 30

Ce sujet se compose de **20 pages** numérotées de **1/20** à **20/20**.
Dès que le sujet vous est remis, assurez-vous qu'il est complet.

Aucun document n'est autorisé.

L'usage de la calculatrice n'est pas autorisé.

| | | |
|--|----------------------|-----------|
| CERTIFICAT D'APTITUDE PROFESSIONNELLE FLEURISTE | AP2106-CAP FLEUR EP1 | |
| EP1 (UP1) : Préparation et confection d'une production florale | Session 2021 | |
| Épreuve écrite : 2 heures 30 | Coefficient : 6 | Page 1/20 |



Vous êtes salarié(e) dans une boutique du centre-ville de Lyon qui propose des créations florales ainsi que de la vente en ligne

Nous sommes en juin, période d'activité accrue pour la boutique.

Votre responsable doit rencontrer ce matin un client et vous demande de prendre en charge la réception de la zone marchande extérieure.

| | | |
|---|-----------------------------|------------------|
| CERTIFICAT D'APTITUDE PROFESSIONNELLE FLEURISTE | AP2106-CAP FLEUR EP1 | |
| EP1 (UP1) : Préparation et confection d'une production florale | Session 2021 | |
| Épreuve écrite : 2 heures 30 | Coefficient : 6 | Page 2/20 |

Il est 8 heures, c'est l'ouverture du magasin.

1. **Lister**, les premières tâches à effectuer pour sortir votre étalage extérieur.

Tandis que vous terminez d'aménager l'extérieur, un client vous interpelle et vous montre une feuille de sa plante qui est malade.

2. **Identifier** la cause possible et le traitement approprié, à partir de votre diagnostic.



Cause →

Traitement →

Parmi votre étalage extérieur, vous constatez que certaines plantes manquent d'eau.

3. **Nommer** les indicateurs qui vous permettent de savoir s'il est nécessaire d'arroser ou non une plante (3 réponses minimum sont demandées).

-
-
-





| | | |
|---|-----------------------------|------------------|
| CERTIFICAT D'APTITUDE PROFESSIONNELLE FLEURISTE | AP2106-CAP FLEUR EP1 | |
| EP1 (UP1) : Préparation et confection d'une production florale | Session 2021 | |
| Épreuve écrite : 2 heures 30 | Coefficient : 6 | Page 3/20 |

Comment procédez-vous pour l'arrosage de ces plantes ?

4. Compléter le tableau ci-dessous :

| Plante | Mode d'arrosage | Fréquence d'arrosage | Exposition |
|---|-----------------|----------------------|------------|
|  | | | |
|  | | | |
|  | | | |
|  | | | |

| | |
|--|---------------------------|
| CERTIFICAT D'APTITUDE PROFESSIONNELLE FLEURISTE | AP2106-CAP FLEUR EP1 |
| EP1 (UP1) : Préparation et confection d'une production florale | Session 2021 |
| Épreuve écrite : 2 heures 30 | Coefficient : 6 Page 4/20 |

| Plante | Mode d'arrosage | Fréquence d'arrosage | Exposition |
|---|-----------------|----------------------|------------|
|  | | | |
|  | | | |
|  | | | |
|  | | | |



Parmi les plantes du tableau précédent, une seule n'a pas sa place en juin.

5. Nommer cette plante :

| | |
|--|----------------------|
| CERTIFICAT D'APTITUDE PROFESSIONNELLE FLEURISTE | AP2106-CAP FLEUR EP1 |
| EP1 (UP1) : Préparation et confection d'une production florale | Session 2021 |
| Épreuve écrite : 2 heures 30 | Coefficient : 6 |
| Page 5/20 | |

Il est 9H00, vous réalisez votre première commande de la matinée. Votre cliente souhaite être conseillée pour l'achat d'un bouquet funéraire.

Pour l'aider dans son choix vous lui exposez les compositions possibles de bouquets funéraires. Pour cela, vous vous appuyez sur une série de visuels répertoriant différentes orientations de lignes.



6. Compléter le tableau ci-dessous.

| | A | B | C | D | E | F | G | H | I | J |
|-------------------|---|---|---|---|---|---|---|---|---|---|
| En spirale | | | | | | | | | | |
| Rayonnante | | | | | | | | | | |
| Parallèle | | | | | | | | | | |

| | |
|---|-----------------------------|
| CERTIFICAT D'APTITUDE PROFESSIONNELLE FLEURISTE | AP2106-CAP FLEUR EP1 |
| EP1 (UP1) : Préparation et confection d'une production florale | Session 2021 |
| Épreuve écrite : 2 heures 30 | Coefficient : 6 |
| | Page 6/20 |

La cliente porte finalement son choix sur le modèle de bouquet funéraire ci-dessous (Gerbe à la main).



7. **Expliquer** à la cliente les critères sur lesquels vous pouvez vous appuyer pour choisir les végétaux qui serviront à la réalisation de la gerbe qu'elle commande.

-
-
-
-
-

Vous devez à présent emballer le bouquet funéraire. Vous constatez que le stock a beaucoup diminué. Vous dressez la liste des produits susceptibles d'être manquants, que vous allez transmettre à votre responsable.

8. **Suggérer** au minimum 3 produits de chaque catégorie qu'il va pouvoir commander :

Papier d'emballage

-
-
-
-

Lien







-
-
-
-

| | | |
|--|----------------------|-----------|
| CERTIFICAT D'APTITUDE PROFESSIONNELLE FLEURISTE | AP2106-CAP FLEUR EP1 | |
| EP1 (UP1) : Préparation et confection d'une production florale | Session 2021 | |
| Épreuve écrite : 2 heures 30 | Coefficient : 6 | Page 7/20 |

Une partie de l'arrivage est utilisée pour la réalisation d'un bouquet rond à base de pivoines roses.

9. Dans le tableau ci-dessous :

- **Identifier** le nom des fleurs
- **Sélectionner** celles que vous allez pouvoir associer avec les pivoines (cocher les cases correspondantes).

| | | | | | |
|--|---|---|--|---|---|
|  |  |  |  |  |  |
| Nom d'espèce : | Nom d'espèce : | Nom d'espèce : | | Nom d'espèce : | Nom d'espèce : |
| | Nom commun : | Nom commun : | Nom commun : | Nom commun : | Nom commun : |
| <input type="checkbox"/> | <input type="checkbox"/> | <input type="checkbox"/> | <input type="checkbox"/> | <input type="checkbox"/> | <input type="checkbox"/> |

Un client souhaite acheter pour sa maman un bouquet rond à base de pivoines roses.

10. **Préconiser** au moins trois conseils d'entretien

.....

.....

11. **Proposer** un camaïeu de couleurs roses pour ce bouquet.

| | | | | |
|--|--|--|--|--|
| | | | | |
|--|--|--|--|--|

| | | | |
|---|--|-----------------------------|------------------|
| CERTIFICAT D'APTITUDE PROFESSIONNELLE FLEURISTE | | AP2106-CAP FLEUR EP1 | |
| EP1 (UP1) : Préparation et confection d'une production florale | | Session 2021 | |
| Épreuve écrite : 2 heures 30 | | Coefficient : 6 | Page 8/20 |

Le reste de votre arrivage est à mettre en vente.



12. **Étiqueter** les végétaux ci-dessous.

| Nom d'espèce | Nom commun | Nom d'espèce |
|---|------------|-----------------------------|
|  | | Heliconia wagneriana |
|  | | |
|  | | |
|  | | |
|  | | Carthamus tinctorius |
|  | | |





| | | |
|---|-----------------------------|------------------|
| CERTIFICAT D'APTITUDE PROFESSIONNELLE FLEURISTE | AP2106-CAP FLEUR EP1 | |
| EP1 (UP1) : Préparation et confection d'une production florale | Session 2021 | |
| Épreuve écrite : 2 heures 30 | Coefficient : 6 | Page 9/20 |

Il aimerait également une plante verte afin de décorer son salon, vous disposez d'un large choix dans le magasin.

13. **Compléter** le tableau ci-dessous pour l'informer correctement.

| Plante | Nom commun | Nom d'espèce |
|---|------------|--------------|
|  | | |
|  | | |
|  | | |
|  | | |
|  | | |

| | |
|---|-----------------------------|
| CERTIFICAT D'APTITUDE PROFESSIONNELLE FLEURISTE | AP2106-CAP FLEUR EP1 |
| EP1 (UP1) : Préparation et confection d'une production florale | Session 2021 |
| Épreuve écrite : 2 heures 30 | Coefficient : 6 |
| Page 10/20 | |

| Plante | Nom commun | Nom d'espèce |
|---|------------|--------------|
|  | | |
|  | | |
|  | | |
|  | | |
|  | | |

| | |
|---|-----------------------------|
| CERTIFICAT D'APTITUDE PROFESSIONNELLE FLEURISTE | AP2106-CAP FLEUR EP1 |
| EP1 (UP1) : Préparation et confection d'une production florale | Session 2021 |
| Épreuve écrite : 2 heures 30 | Coefficient : 6 |
| Page 11/20 | |

Le client porte son choix sur cette plante verte :

14. **Donner** au moins trois conseils d'entretien.

-
-
-



Les racines dépassent du pot et vous proposez un rempotage de la plante dans les semaines qui viennent.

15. **Expliquer** au client pourquoi le rempotage est nécessaire (3 fonctions des racines)

-
-
-

Les meilleures périodes pour le rempotage sont le printemps et l'automne pour les plantes ;


16. **Proposer** le substrat idéal (Entourer la bonne réponse).



| | | |
|--|----------------------|------------|
| CERTIFICAT D'APTITUDE PROFESSIONNELLE FLEURISTE | AP2106-CAP FLEUR EP1 | |
| EP1 (UP1) : Préparation et confection d'une production florale | Session 2021 | |
| Épreuve écrite : 2 heures 30 | Coefficient : 6 | Page 12/20 |

Après avoir conseillé votre client sur l'exposition lumineuse de sa plante pour qu'elle conserve sa couleur.

17. Vous prenez le temps de lui **détailler** les différentes parties d'une feuille sur le visuel ci-dessous.



18. **Préciser** la disposition des feuilles de cette plante (cocher la bonne réponse).

- Alternée
- Opposée
- Verticillée
- En rosette



| | | |
|--|----------------------|------------|
| CERTIFICAT D'APTITUDE PROFESSIONNELLE FLEURISTE | AP2106-CAP FLEUR EP1 | |
| EP1 (UP1) : Préparation et confection d'une production florale | Session 2021 | |
| Épreuve écrite : 2 heures 30 | Coefficient : 6 | Page 13/20 |

Vous devez réaliser une composition florale de style linéaire dans le contenant suivant.








19. **Sélectionner**, en entourant dans la liste ci-dessous, les végétaux que vous pensez nécessaires pour cette composition. Afin de les retirer de la surface de vente et donc de votre stock.



| | | |
|--|----------------------|------------|
| CERTIFICAT D'APTITUDE PROFESSIONNELLE FLEURISTE | AP2106-CAP FLEUR EP1 | |
| EP1 (UP1) : Préparation et confection d'une production florale | Session 2021 | |
| Épreuve écrite : 2 heures 30 | Coefficient : 6 | Page 14/20 |

Il est 15h. Un client vous a entendu parler avec vos collègues des lignes et expressions des végétaux. Il voudrait comprendre ce qu'est un mouvement naturel et le nom de ces différents végétaux.

20. Compléter le tableau ci-dessous.

| Feuillage ou fleur | Aspect de mouvement | Nom commun | Nom d'espèce |
|---|---------------------|------------|--------------|
|  | | | |
|  | | | |
|  | | | |
|  | | | |
|  | | | |

| | | |
|--|----------------------|------------|
| CERTIFICAT D'APTITUDE PROFESSIONNELLE FLEURISTE | AP2106-CAP FLEUR EP1 | |
| EP1 (UP1) : Préparation et confection d'une production florale | Session 2021 | |
| Épreuve écrite : 2 heures 30 | Coefficient : 6 | Page 15/20 |

Votre boutique a été choisie pour réaliser le bijou floral à la manière d'une boutonnière qui sera porté sur le serre tête des hôtes lors du salon « Les Nuits de Fourvière ». Votre responsable vous a chargé de cette commande et vous rencontrez aujourd'hui votre client pour convenir avec lui de ses.



Les Nuits de Fourvière est un festival présentant chaque année, à Lyon, dans les théâtres gallo-romains de la colline de Fourvière, une programmation mêlant théâtre, danse, cirque et musique.

Lors de votre échange, vous proposez à votre client de choisir entre une composition symétrique ou asymétrique. Vous lui présentez des visuels illustrant chacun de ces principes.



21. Compléter le tableau ci-dessous.

| | A | B | C | D | E | F | G |
|-------------|---|---|---|---|---|---|---|
| Symétrique | | | | | | | |
| Asymétrique | | | | | | | |

| | |
|---|-----------------------------|
| CERTIFICAT D'APTITUDE PROFESSIONNELLE FLEURISTE | AP2106-CAP FLEUR EP1 |
| EP1 (UP1) : Préparation et confection d'une production florale | Session 2021 |
| Épreuve écrite : 2 heures 30 | Coefficient : 6 |
| | Page 16/20 |

Votre client hésite entre plusieurs compositions et orientations de lignes aperçues dans les visuels présentés lors de vos différents échanges. Vous lui proposez de réaliser deux croquis du bijou à la manière d'une boutonnière qui sera placé sur le serre tête des hôtesses.

22. En respectant l'ensemble du cahier des charges :

- **Réaliser**, à l'emplacement signalé par une croix sur le gabarit, deux recherches différentes de boutonnières.
- **Respecter** le principe de composition imposé : symétrique ou asymétrique.
- **Choisir et respecter** pour chaque recherche un type de d'orientation de lignes.
- **Composer** votre boutonnière à partir d'au moins 3 végétaux issus des planches de végétaux de votre boutique (planche de documentation page 19) et **veiller** à respecter leur échelle.
- **Réaliser** un croquis rapide au crayon de papier.
- **Annoter** vos recherches sur la recherche sélectionnée.



| RECHERCHE 1 |
|-------------------------------------|
| Symétrique et..... |
| <input type="checkbox"/> Rayonnante |
| <input type="checkbox"/> Parallèle |
| <input type="checkbox"/> En spirale |



| RECHERCHE 2 |
|-------------------------------------|
| Asymétrique et..... |
| <input type="checkbox"/> Rayonnante |
| <input type="checkbox"/> Parallèle |
| <input type="checkbox"/> En spirale |

| | |
|--|----------------------------|
| CERTIFICAT D'APTITUDE PROFESSIONNELLE FLEURISTE | AP2106-CAP FLEUR EP1 |
| EP1 (UP1) : Préparation et confection d'une production florale | Session 2021 |
| Épreuve écrite : 2 heures 30 | Coefficient : 6 Page 17/20 |

Vous devez maintenant réaliser le croquis de la boutonnière de votre choix.

23. À partir de vos propositions :

- **Indiquer** le numéro de la recherche validée.
- **Placer** la boutonnière à l'emplacement indiqué sur le gabarit de l'hôtesse.
- **Respecter** les couleurs naturelles des végétaux proposés. *Toute technique de mise en couleur est autorisée sauf les techniques à séchage lent.*

Justifier votre choix de composition et d'orientation de lignes à l'aide du vocabulaire approprié.

Recherche n°



Justification du choix :

.....
.....
.....

| | | |
|--|----------------------|------------|
| CERTIFICAT D'APTITUDE PROFESSIONNELLE FLEURISTE | AP2106-CAP FLEUR EP1 | |
| EP1 (UP1) : Préparation et confection d'une production florale | Session 2021 | |
| Épreuve écrite : 2 heures 30 | Coefficient : 6 | Page 18/20 |

Planche ressource végétaux « bijou de serre tête à la manière d'une boutonnière »



Hypercorium



Lymonium



Wax Flower



Piment



Steel Grass



Mini oeillet



Mini rose



Oncidium



Bear grass



Fil laiton



Bear grass

| | | |
|---|------------------------|-----------------------------|
| CERTIFICAT D'APTITUDE PROFESSIONNELLE FLEURISTE | | AP2106-CAP FLEUR EP1 |
| EP1 (UP1) : Préparation et confection d'une production florale | | Session 2021 |
| Épreuve écrite : 2 heures 30 | Coefficient : 6 | Page 19/20 |

Il est 18 heures, la journée se termine. Vous devez à présent trier les divers déchets. Vous avez recensé et classé les types de déchets que l'on trouve chez un fleuriste

24. **Préciser** de quelle manière les recycler.

| Catégorie | Recyclage |
|--------------------------------|-----------|
| Végétaux, terre | |
| Cartons, rouleaux d'emballage. | |
| Plastiques, polystyrène. | |

25. **Expliquer** 3 actions qu'un fleuriste doit adopter pour avoir un comportement professionnel écoresponsable, autres que le tri des déchets.

-
-
-