

Académie :	Session :
Examen :	Série :
Spécialité/option :	Repère de l'épreuve :
Épreuve/sous épreuve :	
NOM :	
(en majuscule, suivi s'il y a lieu, du nom d'épouse)	
Prénoms :	N° du candidat <input style="width: 100px; height: 20px;" type="text"/>
Né(e) le :	(le numéro est celui qui figure sur la convocation ou liste d'appel)
Appréciation du correcteur	
<div style="border: 1px solid black; width: 150px; height: 50px; display: flex; align-items: center; justify-content: center;">             Note :           </div>	

Il est interdit aux candidats de signer leur composition ou d'y mettre un signe quelconque pouvant indiquer sa provenance.

Matériel autorisé : Calculatrice électronique conformément à la circulaire n° 99-186 du 16 novembre 1999

# BACCALAURÉAT PROFESSIONNEL TRANSPORT

**LE SUJET COMPREND QUATRE DOSSIERS  
QUI PEUVENT ÊTRE TRAITÉS DE FAÇON INDÉPENDANTE.**

**Vous exercez vos activités dans l'entreprise :**

## RHÔNE INTERNATIONAL TRANSIT



Cargoport – Zone De Fret  
69125 LYON SAINT EXUPÉRY AÉROPORT  
Tél. : 04.37.24.80.82 Fax : 04.37.24.80.01

SA au capital de 200000 €  
Affrètement – Transit - Douane - Entreposage  
Groupages internationaux routiers, aériens et maritimes  
Site Internet : [www.rhoneinternationaltransit.com](http://www.rhoneinternationaltransit.com)  
Courriel : [contact@rhoneinternationaltransit.com](mailto:contact@rhoneinternationaltransit.com)  
SIREN : 552088536 – RCS Lyon B 552 088 536 – NAF 5229B  
Agréé en douane n° A 3052 – Agréé sûreté EC9054491  
N° identification : FR 29 552 088 536 – IATA : 18-2 6425

DOSSIERS	BARÈME
DOSSIER 1 : ORGANISATION D'UN TRANSPORTAÉRIEN	27 POINTS
DOSSIER 2 : ORGANISATION D'UN TRANSPORTROUTIER NATIONAL	40 POINTS
DOSSIER 3 : SERVICE OVERSEAS ET DOUANE	33 POINTS
<b>TOTAL</b>	<b>100 POINTS</b>

<b>BACCALAURÉAT PROFESSIONNEL TRANSPORT</b>	Code : AP1606TRS2	Session 2016	SUJET
Épreuve E2 : Épreuve d'étude de situations professionnelles	Durée : 3 h	Coefficient : 5	Page 1 sur 20

## NE RIEN ÉCRIRE DANS CETTE PARTIE

Vous venez d'être embauché(e) au sein de l'entreprise **RHÔNE INTERNATIONAL TRANSIT** à Lyon Saint-Exupéry comme agent d'exploitation. Vous travaillerez dans différents services.

### DOSSIER 1 : ORGANISATION D'UN TRANSPORT AÉRIEN

Le lundi 13 juin 2016, vous assistez Monsieur ROUSSON au service « transport aérien export ». Il vous précise que l'entreprise est habilitée à effectuer dans ses locaux toutes les opérations de sécurisation du fret avant sa remise à la compagnie aérienne.

Il vous remet une demande de cotation d'un de vos clients SAMSON SA, situé au Puy-en-Velay (43).

#### MESSAGE ÉLECTRONIQUE

samson@free.fr			
Envoyer	Enregistrer dans Brouillons	Annuler	Imprimer
A :	contact@rhoneinternationaltransit.com		
Cc :			
Objet :	Cotation CPT Aéroport Alger		
Pièces jointes			
<p>Bonjour,</p> <p>Veuillez nous faire parvenir votre cotation complète concernant l'expédition de :</p> <ul style="list-style-type: none"><li>12 palettes (non gerbables) comportant chacune un lot de 3 caisses de matériel industriel d'une valeur commerciale de 16 080,50€ CPT Aéroport d'Alger</li><li>Masse brute unitaire de la caisse : 78 kg</li><li>Dimensions d'une caisse : 78 cm x 56 cm x 26 cm (L x l x h)</li><li>Dimensions d'une palette: 80 cm x 60 cm x 93 cm (L x l x h)</li><li>Enlèvement : Mardi 14 juin 2016 à 11 heures de Sainte-Sigolène (43)</li><li>Livraison : Avant 9 heures le jeudi 16 juin 2016 à l'aéroport d'Alger</li><li>Destinataire : Danone Djurdjura ZacTaharacht BEJAIA (Algérie)</li></ul> <p style="text-align: right;">Lucie Service Export</p>			
<input checked="" type="checkbox"/> garder une copie <input type="checkbox"/> accusé de réception			

<b>BACCALAURÉAT PROFESSIONNEL TRANSPORT</b>	<b>Code : AP1606TRS2</b>	<b>Session 2016</b>	<b>SUJET</b>
<b>Épreuve E2 : Épreuve d'étude de situations professionnelles</b>	<b>Durée : 3 h</b>	<b>Coefficient : 5</b>	<b>Page 2 sur 20</b>

# NE RIEN ÉCRIRE DANS CETTE PARTIE

Vous vous procurez l'extrait tarifaire pour des enlèvements à destination de Lyon Saint-Exupéry.

<b>EXTRAIT DU TARIF RHÔNE INTERNATIONAL TRANSIT</b>												
<b>TARIFS NÉGOCIÉS POUR DES ENLÈVEMENTS À DESTINATION DE LYON SAINT-EXUPÉRY (CLIENTS RÉGULIERS)</b>												
Enlèvements au départ de :	FORFAIT PAR ENVOI APPLICABLE AUX METRES DE PLANCHER (ml) - En €											
	Arrondir au 0,5 m supérieur											
	de 0,1 m à 1,4 m	de 1,5 m à 2,4 m	de 2,5 m à 3,4 m	de 3,5 m à 4,4 m	de 4,5 m à 5,4 m	de 5,5 m à 6,4 m	de 6,5 m à 7,4 m	de 7,5 m à 8,4 m	de 8,5 m à 9,4 m	de 9,5 m à 10,4 m	de 10,5 m à 11,4 m	de 11,5 m à 13,6 m
69 RHÔNE	53,50	77,30	91,50	102,90	113,90	133,40	145,50	154,60	164,70	175,20	188,20	216,90
43 HAUTE-LOIRE	109,00	125,30	153,40	175,00	207,20	227,80	240,60	260,30	288,50	303,40	327,40	342,90
01 AIN	61,50	84,60	96,70	107,50	117,70	148,20	159,30	161,10	171,90	182,80	189,80	226,90
42 LOIRE	66,60	86,10	98,10	109,00	119,7	150,80	161,10	163,90	173,00	185,10	191,10	228,40

Remarques :

- Prix en Euro HT forfaitaire en fonction des mètres de plancher.
- À ce prix s'ajoute 6,20 € de frais d'enregistrement par envoi.

Monsieur ROUSSON vous précise que le chargement des palettes est effectué par nos soins et que l'acheminement des palettes s'effectue en porteur (Longueur utile = 9 m ; largeur utile = 2,45 m).

**1. Calculez le prix du préacheminement routier.**

ÉLÉMENTS	DÉTAIL DES CALCULS	RÉSULTATS
<b>LONGUEUR PLANCHER NÉCESSAIRE</b>		
<b>DÉTERMINATION DU PRIX DE VENTE HORS TAXES</b>		
<b>PRIX DE VENTE HORS TAXES</b>		

<b>BACCALAURÉAT PROFESSIONNEL TRANSPORT</b>	<b>Code : AP1606TRS2</b>	<b>Session 2016</b>	<b>SUJET</b>
<b>Épreuve E2 : Épreuve d'étude de situations professionnelles</b>	<b>Durée : 3 h</b>	<b>Coefficient : 5</b>	<b>Page 3 sur 20</b>

# NE RIEN ÉCRIRE DANS CETTE PARTIE


Afin de déterminer le montant de la cotation totale de ce transport, vous consultez les tarifs aériens 2016.

## TARIF NÉGOCIÉ ET APPLIQUÉ POUR LE CLIENT SAMSON PAR RHÔNE INTERNATIONAL TRANSIT SUR ALGER

Fret remis avec le certificat de sûreté  
de Paris, Bordeaux, Lille, Lyon, Marseille, Mulhouse, Nantes, Nice, Strasbourg, Toulouse vers :

ITEM	MASSE MINI	EUR/kg
<b>ALGER ALG</b>	M	80,03
	N	13,27
	45	10,16
	100	7,90
	500	3,20
	1 000	2,10
	3 000	1,90

Le taux de fret est fixé, en transport aérien, selon un rapport poids/volume de la marchandise reposant sur l'équivalence de 1 kg = 6 dm<sup>3</sup> (1 tonne = 6 m<sup>3</sup>), à l'avantage du transporteur.

<b>AWA</b>	<b>Frais fixe d'établissement de la LTA</b>	18 € par LTA
<b>CHC</b>	<b>Frais fixe d'enregistrement de la LTA</b>	22 € par LTA
<b>MYC</b>	<b>Surcharge fuel</b> Applicable sur le poids réel de la marchandise	<p>Le montant est évolutif, pour avoir le taux à jour, vous devez aller sur le site d'air France (About us – rates and conditions)</p> <p>Long ICA* ou ICA + = 1,03 € ICA = 0,83 € Short Haul = 0,52 €</p> <p>* Inter Continental Area</p>
 <p style="text-align: center;">Flight duration determines in wich zone a destination falls.</p>		
<b>Tarification des mesures de sûreté</b> Applicable sur le poids réel de la marchandise		
<b>SCC</b>	<b>Si le fret est sécurisé</b> (remis avec le certificat de sûreté) 0,017 € par kilo Minimum 5 € Maximum 19,30 €	<b>Si le fret n'est pas sécurisé</b> (remis sans le certificat de sûreté) 0,12 € par kilo Minimum 16,50 € Maximum 270,00 €
	<b>IRC</b>	<b>Surcharge assurance</b> 0,15 € par kilo taxable Minimum 7,50 € Maximum 375,00 €
<b>FRAIS DE RHÔNE INTERNATIONAL</b> <ul style="list-style-type: none"> <li>▪ Frais de douane export : 70 €</li> <li>▪ Frais de chargement avion : 120 €</li> </ul>		

<b>BACCALAURÉAT PROFESSIONNEL TRANSPORT</b>	Code : AP1606TRS2	Session 2016	SUJET
Épreuve E2 : Épreuve d'étude de situations professionnelles	Durée : 3 h	Coefficient : 5	Page 4 sur 20

# NE RIEN ÉCRIRE DANS CETTE PARTIE

Vous avez à votre disposition un tableau des Incoterms.

## RÉPARTITION DES COÛTS - INCOTERMS 2010

SIGLE	EMBALLAGE	CHARGEMENT (camion, wagon,) EMPOTAGE (conteneur) en USINE ou ENTREPOT DEPART	ACHEMINEMENT au PORT à l'AEROPORT, à la PLATEFORME de GROUPAGE au TERMINAL DEPART	FORMALITES DOUANIERES EXPORT	PASSAGE PORTUAIRE, AERO- PORTUAIRE, PLATE-FORME de GROUPAGE TERMINAL DEPART	TRANSPORT PRINCIPAL	ASSURANCE TRANSPORT	PASSAGE PORTUAIRE, AEROPORTUAIRE, PLATE-FORME de GROUPAGE TERMINAL ARRIVEE	FORMALITES DOUANIERES IMPORT DROITS ET TAXES	ACHEMINEMENT à L'USINE ou ENTREPOT ARRIVEE	DECHARGE MENT en USINE ou ENTREPOT ARRIVEE
EXW	■	□	□	□	□	□	□	□	□	□	□
FCA	■	■	■	■	□	□	□	□	□	□	□
CPT	■	■	■	■	■	■	□	□	□	□	□
CIP	■	■	■	■	■	■	■	□	□	□	□
DAT	■	■	■	■	■	■	■	■	□	□	■
DAP	■	■	■	■	■	■	■	■	□	■	□
DDP	■	■	■	■	■	■	■	■	■	■	□
FAS	■	■	■	■	□	□	□	□	□	□	□
FOB	■	■	■	■	■	□	□	□	□	□	□
CFR	■	■	■	■	■	■	□	□	□	□	□
CIF	■	■	■	■	■	■	■	□	□	□	□

Coût direct à la charge du vendeur

Coût direct à la charge de l'acheteur

**NE RIEN ÉCRIRE DANS CETTE PARTIE**

**2. Déterminez le montant de la cotation totale CPT Aéroport d'Alger.**

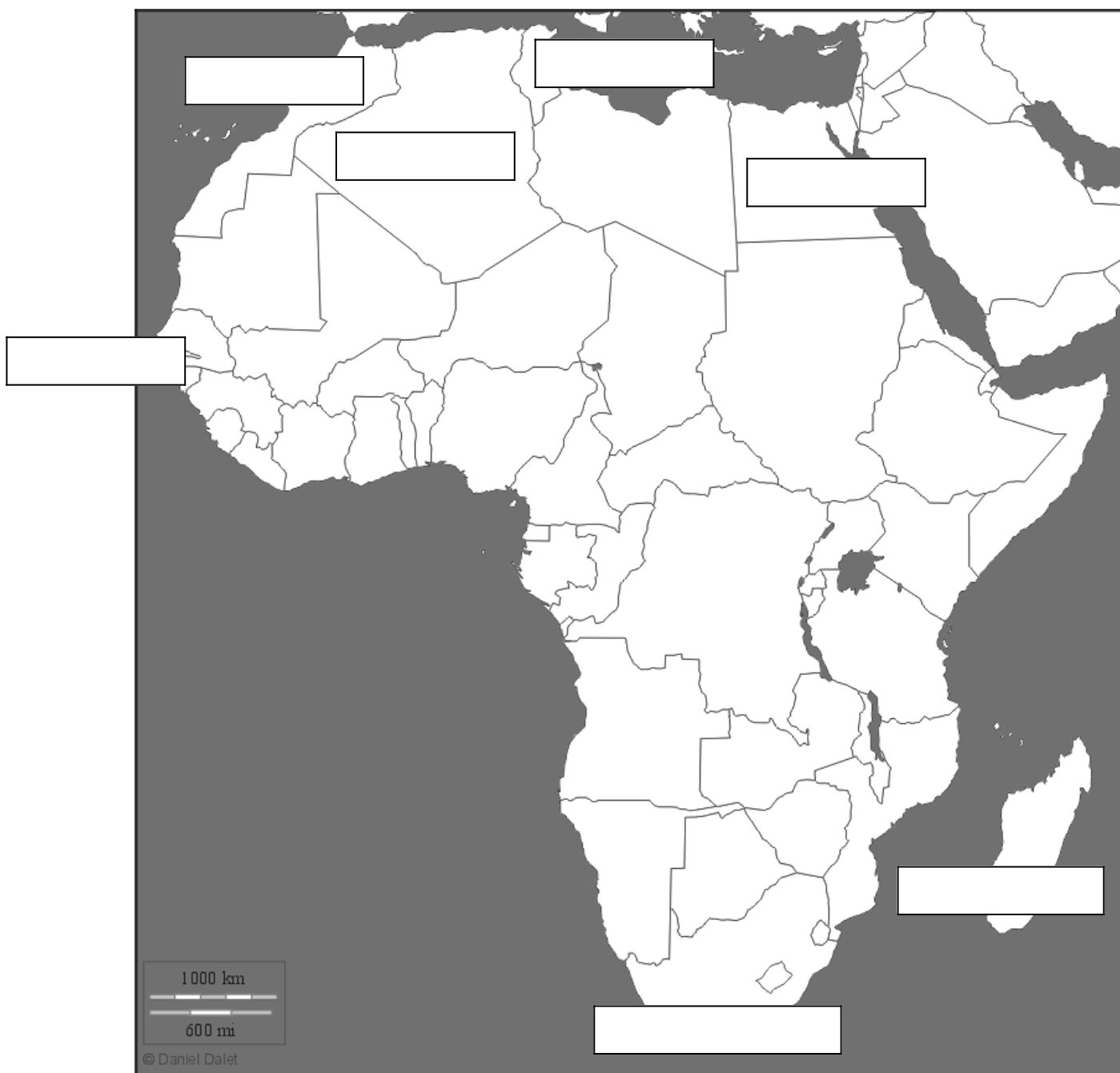
<b>ÉLÉMENTS</b>	<b>DÉTAIL DES CALCULS</b>	<b>RÉSULTATS</b>
<b>DÉTERMINATION DE LA MASSE TAXABLE</b>		
<b>MASSE TAXABLE</b>		
<b>DÉTERMINATION DE LA COTATION CPT AÉROPORT D'ALGER</b>		
<b>COTATION TOTALE CPT AÉROPORT D'ALGER</b>		

# NE RIEN ÉCRIRE DANS CETTE PARTIE

Votre client souhaiterait prochainement expédier de la marchandise dans d'autres pays d'Afrique :

ALGÉRIE, ÉGYPTE, MAROC, TUNISIE, AFRIQUE DU SUD,  
CAMEROUN, MADAGASCAR

3. Situez ces pays sur la carte.



BACCALAURÉAT PROFESSIONNEL TRANSPORT	Code : AP1606TRS2	Session 2016	SUJET
Épreuve E2 : Épreuve d'étude de situations professionnelles	Durée : 3 h	Coefficient : 5	Page 7 sur 20

# NE RIEN ÉCRIRE DANS CETTE PARTIE

## DOSSIER 2 : ORGANISATION D'UN TRANSPORT ROUTIER NATIONAL

Ce mardi 14 juin 2016, vous remplacez un agent d'exploitation au service route. Pauline TOURNEYRE, responsable du service, vous demande de traiter le courriel suivant.

### MESSAGE ÉLECTRONIQUE

entreprisemeac@orange.fr			
Envoyer	Enregistrer dans Brouillons	Annuler	Imprimer
A :	contact@rhoneinternationaltransit.com		
Cc :			
Objet :	Livraison granulés		
Pièces jointes			
<p>Bonjour,</p> <p>Nous avons 2 commandes qui doivent être livrées :</p> <ul style="list-style-type: none"><li>▪ Entreprise VALSOLEIL à Sarras (07)<ul style="list-style-type: none"><li>✓ Commande n° 12499117</li><li>✓ Livraison le 15/06/2016</li><li>✓ 12 palettes europe de sacs de granulés de bois (120 cm x 80 cm x 130 cm)</li><li>✓ 500 kg unitaire</li></ul></li><li>▪ Entreprise ANDRÉ OGIER à Romans-sur-Isère (26)<ul style="list-style-type: none"><li>✓ Commande n° 12499121</li><li>✓ Livraison le 15/06/2016</li><li>✓ 8 palettes (100 cm x 120 cm x 145 cm) – 560 kg unitaire</li><li>✓ 2 palettes (300 cm x 120 cm x 152 cm) – 360 kg unitaire</li><li>✓ Marchandises : matériel pour chaudière</li></ul></li></ul> <ul style="list-style-type: none"><li>▪ Palettes disponibles sur nos quais le 15/06/2016 à 7 heures</li><li>▪ Chargement et déchargement des palettes par le côté</li><li>▪ Palettes non gerbables</li></ul> <p>Merci de nous confirmer la faisabilité de ce transport par retour de mail.</p> <p>Cordialement Claire Marrin Entreprise MEAC La Ferronière 37400 AMBOISE</p>			

BACCALAURÉAT PROFESSIONNEL TRANSPORT	Code :AP1606TRS2	Session 2016	SUJET
Épreuve E2 : Épreuve d'étude de situations professionnelles	Durée : 3 h	Coefficient : 5	Page 8 sur 20



## NE RIEN ÉCRIRE DANS CETTE PARTIE

Le planning indique que le mercredi 15 juin 2016, trois de nos conducteurs se trouveront à vide dans la région d'Amboise (37), en attente d'un fret retour.

Vous étudiez le trajet du conducteur qui sera chargé de ce transport depuis Amboise (37).



BACCALAURÉAT PROFESSIONNEL TRANSPORT	Code : AP1606TRS2	Session 2016	SUJET
Épreuve E2 : Épreuve d'étude de situations professionnelles	Durée : 3 h	Coefficient : 5	Page 9 sur 20

## NE RIEN ÉCRIRE DANS CETTE PARTIE

4. Identifiez la préfecture et le département de chaque point de passage du conducteur en charge de ce transport.


ÉTAPE	PRÉFECTURE	DÉPARTEMENT	
		NUMÉRO	NOM
①		37	<i>Indre-et-Loire</i>
②	<i>Châteauroux</i>	36	
③	<i>Bourges</i>		
④	<i>Moulins</i>		
⑤		42	
⑥	<i>Privas</i>		
⑦			<i>Drôme</i>
⑧		69	

VÉHICULES ET CONDUCTEURS DISPONIBLES LES 14, 15, 16, 17 JUIN 2016 ET SE TROUVANT À AMBOISE.

NOM DES CONDUCTEURS	ALI	KÉVIN	MARIE
	<b>ENSEMBLE ARTICULÉ 1</b>	<b>ENSEMBLE ARTICULÉ 2</b>	<b>ENSEMBLE ARTICULÉ 3</b>
<b>TRACTEURS</b>	MCE : 40 t PV : 8 t 2 essieux	MCE : 40 t PV : 7,50 t 2 essieux	MCE : 38 t PV : 7,20 t 2 essieux
<b>SEMI-REMORQUES</b>	MCV : 30 t PV : 8,60 t 3 essieux Carrosserie : Frigorifique Longueur utile : 13,50 m Hauteur utile : 2,60 m Largueur utile : 2,50 m	MCV : 34 t PV : 7,50 t 3 essieux Carrosserie : Tautliner Longueur utile : 13,50 m Hauteur utile : 2,90 m Largueur utile : 2,45 m	MCV : 34 t PV : 6,90 t 2 essieux Carrosserie : Fourgon complet Longueur utile : 13,50 m Hauteur utile : 2,70 m Largueur utile : 2,45 m

**NE RIEN ÉCRIRE DANS CETTE PARTIE**

**5. Sélectionnez le véhicule apte à assurer le transport. Justifiez très précisément votre choix (carrosserie, Charge Utile, plan de chargement).**

<b>CHOIX DU VÉHICULE</b>	
<b>ÉTUDE DES CONTRAINTES TECHNIQUES</b>	<b>CALCUL DE LA CHARGE UTILE</b>
	<p style="text-align: center;"><b>PLAN DE CHARGEMENT</b> (Indiquez pour chaque envoi ses dimensions et le nom de la localité de livraison)</p> <p style="text-align: center;">Ensemble articulé avec vue du dessus – Échelle : 1 cm = 1 m Le 1<sup>er</sup> client livré est l'entreprise VALSOLEIL.</p> <div style="text-align: center;"></div>

## NE RIEN ÉCRIRE DANS CETTE PARTIE

<b>DÉCISION</b>	
-----------------	--

Votre responsable vous demande de déterminer le prix de vente HT de la prestation routière. Elle vous communique les renseignements suivants :

- Vitesse moyenne du véhicule : 65 km/h
- Durée du chargement : 1 h
- Durée par déchargement : 0 h 30
- Temps de travail effectif du conducteur : 12h = 1 jour, au-delà, 2 jours
- Marge de 6 % du coût de revient

<b>EXTRAIT DES COÛTS CNR</b>	
<b>(ENSEMBLE ARTICULÉ TRANSPORT DE MARCHANDISES DIVERSES)</b>	
Terme kilométrique (1 km parcouru)	0,526 €
Terme horaire (1 h de temps de service)	21,60 €
Terme journalier (coût de véhicule + coût de structure)	157,09 €

Vous avez à votre disposition un distancier en kilomètre.

	Amboise	Vierzon	Bourges	Montluçon	Clermont-Ferrand	St-Étienne	Givors	Romans-sur-Isère	Sarras	Lyon St-Exupéry
Amboise		98	134	217	311	441	474	545	498	486
Vierzon	98		39	121	216	346	380	464	403	391
Bourges	134	39		99	193	323	356	441	380	328
Montluçon	217	121	99		113	243	277	361	300	288
Clermont-Ferrand	311	216	193	113		147	181	265	204	192
St-Étienne	441	346	323	243	147		39	122	59	75
Givors	474	380	356	277	181	39		85	53	38
Romans-sur-Isère	545	464	441	361	265	122	85		32	117
Sarras	498	403	380	300	204	59	53	32		86
Lyon St-Exupéry	486	391	328	288	192	75	38	117	86	

<b>BACCALAURÉAT PROFESSIONNEL TRANSPORT</b>	<b>Code : AP1606TRS2</b>	<b>Session 2016</b>	<b>SUJET</b>
<b>Épreuve E2 : Épreuve d'étude de situations professionnelles</b>	<b>Durée : 3 h</b>	<b>Coefficient : 5</b>	<b>Page 12 sur 20</b>

**NE RIEN ÉCRIRE DANS CETTE PARTIE**

**6. Déterminez le prix de vente HT de la prestation routière entre Amboise et Sarras.**

ÉLÉMENTS	CALCULS	RÉSULTAT
Distance en km		
Durée du trajet de conduite		
Durée chargement		
Durée déchargement		
Temps de service		
Nombre de jours		
Coût kilométrique		
Coût horaire		
Coût journalier		
Coût de revient HT		
Marge		
<b>PRIX DE VENTE HT</b>		

# NE RIEN ÉCRIRE DANS CETTE PARTIE

## DOSSIER 3 : SERVICE OVERSEAS ET DOUANE

Votre employeur, satisfait de votre travail, souhaiterait vous orienter vers le service Overseas de la société pour traiter les dossiers import/export, transport multimodal et douane.

### 7. Répondez au questionnaire à choix multiples

*Rappel : dans les questions à choix multiples, plusieurs réponses par question sont possibles. Seules les réponses totalement exactes seront prises en compte.*

#### A. Les documents de transport permettant de matérialiser des contrats de transport Overseassont :

- LTA
- CIM
- Bill of Lading
- CMR

#### B. Le sigle UTI signifie :

- Unités de Transport Intermodal
- Unités de Transport International
- Unités de Transfert Intermédiaires

#### C. Les appareils cargos:

- sont aménagés pour le transport de personnes
- sont dédiés uniquement au transport de palettes, de colis et de fret spécifique
- accueillent du fret sur la partie arrière de la cabine à environ 50 % du fuselage

#### D. En tant que commissionnaire de transport, vous organisez pour votre client, situé à Lyon, des transports de pièces détachées à destination du monde entier. Les conditions de vente négociées par ce client avec l'acheteur peuvent être conclues en :

- FOB Marseille
- FCA New York
- DDP Roissy
- CPT Lyon Saint Exupéry

#### E. En tant que commissionnaire de transport, vous devez transmettre une cotation maritime à l'un de vos clients qui souhaite exporter une machine outils sur le Brésil en conventionnel. Masse brute totale : 6 tonnes. Volume Total : 12 m<sup>3</sup> - Tarif de l'UP : 166 €. Le fret de base sera de :

- 166 €
- 996 €
- 1992 €
- 11 952 €

#### F. Les conditions de vente de votre client français sont FOB Le Havre. Vous allez facturer à votre client :

- les frais de pré acheminement routier de chez le client au Havre
- les frais de chargement du navire au port du Havre
- les frais de déchargement au port de New York
- les frais de dédouanement export
- le fret maritime

#### G. Votre client français importe des ampoules. Les conditions de vente sont CFR Fos-sur-mer. Vous devez en tant que commissionnaire de transport :

- souscrire une assurance pour le transport maritime
- facturer les droits de douane et la TVA
- facturer le transport maritime

BACCALAURÉAT PROFESSIONNEL TRANSPORT	Code : AP1606TRS2	Session 2016	SUJET
Épreuve E2 : Épreuve d'étude de situations professionnelles	Durée : 3 h	Coefficient : 5	Page 14 sur 20

# NE RIEN ÉCRIRE DANS CETTE PARTIE

- facturer les frais de post-acheminement jusqu'à Lyon

8. a - Identifiez le nom de chaque navire ;

b - Portez le(s) numéro(s) de chaque infrastructure ou moyen nécessaire à la manutention et au stockage.



Nom du navire :	
Infrastructures ou moyens de manutention et/ou de stockage :	



Nom du navire :	
Infrastructures ou moyens de manutention et/ou de stockage :	



Nom du navire :	
Infrastructures ou moyens de manutention et/ou de stockage :	

## LISTE DES INFRASTRUCTURES OU MOYENS DE MANUTENTION ET/OU DE STOCKAGE

① - Véhicules tracteurs

② - Pipeline, tuyau

③ - Parcs à conteneurs à ciel ouvert

④ - Passerelles (du navire ou du quai)

⑤ - Chariots cavaliers

⑥ - Grues

# NE RIEN ÉCRIRE DANS CETTE PARTIE

Le mercredi 15 juin 2016, vous prenez connaissance d'un dossier de dédouanement aérien d'un client régulier pour une importation en provenance d'Inde.

Votre chef de service, Monsieur Zeroual, vous remet la facture commerciale de cette importation.

**LEATHER INDUSTRIES PRIVATE LIMITED**  
**Periyar E.V.R High Road**  
**Kilpauk**  
**Jaipur – 600 010 - INDE**

## COMMERCIAL INVOICE N° KHL/1943

<b>Date : 4 juin 2016</b>		<b>SOCCER TEAM IMPORT</b> 1 rue Eugène Freyssinet 69006 LYON		
Transport : By AIR	Incoterm : FCA New Delhi	Terms(délai de paiement) :60 jours		
Description of goods (description des marchandises) : Ballons de football en cuir	Total Quantity(quantité) : 10 cartons contenant 66 ballons dégonflés (120 x 60 x 60 cm)	Total Net Weight : (Masse NetteTotale) 149 kg	Total Gross Weight : (Masse BruteTotale) 153 kg	
ShippingMark (Marques)	Leather and colour (cuir et couleur)	Quantity(Quantité)	Unit Price(Prix unitaire) USD	Amount (Total) USD
12305 à 12314	JAKAL – T.MORO	660	3,82	2 520,00
<b>NET À PAYER</b>				<b>2 520,00</b>

Taux de change : 1 € = 1,1237 USD

Il vous transmet également une documentation douanière.

LISTE DES PAYS ET TERRITOIRES EN DÉVELOPPEMENT BÉNÉFICIAIRES DE PRÉFÉRENCES TARIFAIRES GÉNÉRALISÉES (SPG)	
Afghanistan (AF) ... Bangladesh (BD) ... Congo (CG) ... Haïti (HT)	Inde (IN) ... Irak (IQ) Kenya (KE) Kirghizstan (KG) Cambodge (KH) ....

<b>BACCALAURÉAT PROFESSIONNEL TRANSPORT</b>	Code :AP1606TRS2	Session 2016	SUJET
Épreuve E2 : Épreuve d'étude de situations professionnelles	Durée : 3 h	Coefficient : 5	Page 16 sur 20



# NE RIEN ÉCRIRE DANS CETTE PARTIE

## EXTRAIT DU TARIF DOUANIER

The screenshot shows the 'RÈGLEMENTATION' section of the website. It includes search filters, options for displaying results (e.g., 'Codes et leurs libellés'), and a table of tariff entries. The entries are categorized by 'Droits de douane, droits additionnels et autres droits'.

Droits de douane, droits additionnels et autres droits	Domaines des fiscalités (TVA, taxes...)	Antidumping et mesures de rétorsions	Prohibitions Restrictions	Octroi de mer	
<b>103 - Droit pays tiers</b>					
Nomenclature : 95 06 62 00 00 Renvoi : TN701 : Conformément au règlement (UE) n° 692/2014 du Conseil (JO L 183, p. 9),					
Pays : IN - ( 1011 - ERGA OMNES )					
Préférences : 100 - Taux de droit de douane erga omnes appliqués aux pays tiers					
150 - Admission dans un code NC subordonnée à la présentation d'un certificat particulier					
2,7%					
<b>142 - Préférence tarifaire</b>					
Nomenclature : 95 06 62 00 00 (9506) Renvoi : TN701 : Conformément au règlement (UE) n° 692/2014 du Conseil (JO L 183, p. 9),					
Pays : IN - ( 2020 - SPG (R 12/978) - Régime général )					
Préférences : 200 - Taux de droit SPG sans conditions, ni limites					
0%					
Droits de douane, droits additionnels et autres droits	Domaines des fiscalités (TVA, taxes...)	Antidumping et mesures de rétorsions	Prohibitions Restrictions	Octroi de mer	Restitutions agricoles
<b>TDC - Taxe pour le développement des industries du cuir, maroquinerie, ganterie et de la chaussure</b>					
Nomenclature : 95 06 62 00 00 Renvoi : TN701 : Conformément au règlement (UE) n° 692/2014 du Conseil (JO L 183, p. 9),					
Pays : IN - ( 1011 - ERGA OMNES )					
Code Additionnel : T005 <sup>(cana)</sup> : articles en cuir ou contenant					
0,18%					
Renvoi					
5300020 : Articles visés par l'article 71 B de la LFR de 2003 et par l'arrêté du 22 janvier 2004 modifié par les arrêtés des 15 juillet et 15 décembre 2008					
53200 : la taxe est perçue sur la valeur en douane appréciée au lieu d'introduction dans le territoire national ( valeur franco frontière française) et entre dans					
53216 : La taxe pour le développement des industries du cuir ne s'applique pas pour une origine Liechtenstein, Norvège, Islande ou Turquie.					
<b>TVA - TVA normale</b>					
Nomenclature : 95 06 62 00 00 (9506) Renvoi : TN701 : Conformément au règlement (UE) n° 692/2014 du Conseil (JO L 183, p. 9),					
Pays : IN - ( FR01 - UE + pays tiers + DOM )					
Territoire d'application : METRO - France continentale, Corse.					
20%					

9. Le flux de marchandises traitées à travers cet envoi est un flux :

- extracommunautaire
- intracommunautaire

10. Quel(s) est (ou sont) les documents qui permettent de justifier de l'origine de la marchandise pour cet envoi :

- EUR 1
- ATR
- FORM A
- EUR MED

BACCALAURÉAT PROFESSIONNEL TRANSPORT	Code :AP1606TRS2	Session 2016	SUJET
Épreuve E2 : Épreuve d'étude de situations professionnelles	Durée : 3 h	Coefficient : 5	Page 17 sur 20

## NE RIEN ÉCRIRE DANS CETTE PARTIE

DOF

**11. La délivrance de ce certificat d'origine doit émaner :**

- d'une autorité ou d'un organisme habilité par le pays d'exportation
- d'une autorité ou d'un organisme habilité par le pays d'importation

**12. Indiquez les avantages que tire l'importateur de la présence d'un certificat d'origine dans ce dossier de dédouanement. Justifiez votre réponse.**

Vous disposez de l'extrait du fichier client SOCCER TEAM IMPORT.

EXTRAIT DU FICHIER CLIENT SOCCER TEAM IMPORT			
Téléphone	Télécopie	Adresse mail	Numéro EORI
04 78 34 55 67	04 78 34 56 45		<b>FR 312 060 820 00119</b>
<b>Frais de transport</b>	<ul style="list-style-type: none"><li>▪ Prix du transport aérien assurance et taxes comprises : 7,56 € par kilo de masse brute</li><li>▪ Frais de manutention à ROISSY CDG : 95 €</li><li>▪ Forfait douane import, mise sous transit et frais de dossier : 100 €</li><li>▪ Post-acheminement routier de ROISSY à Lyon : 135 €</li></ul>		
<b>Répartition des frais de transport et d'assurance</b>		Pays Tiers = 46 % Union Européenne hors de France = 45 % En France = 9 %	
Observation : douane effectuée à Lyon dans nos locaux.			

## NE RIEN ÉCRIRE DANS CETTE PARTIE

### 13. Contrôlez les bases d'imposition. Justifiez votre choix par le calcul.

BASES D'IMPOSITION		VALEUR		JUSTIFICATION PAR LE CALCUL	
		JUSTE	FAUSSE		
VALEUR EN DOUANE	2775 €	<input type="checkbox"/>	<input type="checkbox"/>		
VALEUR STATISTIQUE	3295 €	<input type="checkbox"/>	<input type="checkbox"/>		
ASSIETTE TVA	3 810 €	<input type="checkbox"/>	<input type="checkbox"/>	VALEUR PREMIÈRE DESTINATION :	
				DROITS ET TAXES ÉVENTUELS :	
				VALEUR ASSIETTE TVA	

## NE RIEN ÉCRIRE DANS CETTE PARTIE

Monsieur Zeroual vous soumet deux autres situations et vous demande de lui indiquer les régimes douaniers qui doivent être sollicités dans chaque cas.

**14. Vous exportez des rouleaux de tissus de France à destination de la Turquie pour la fabrication de vêtements. Le régime douanier sera :**

- Perfectionnement Actif
- Perfectionnement Passif
- Exportation Temporaire
- Admission Temporaire

**15. À l'occasion du mondial de l'automobile de Paris, des voitures du monde entier seront exposées. Le régime douanier qui sera sollicité à l'importation pour des voitures japonaises, sera :**

- Perfectionnement Actif
- Perfectionnement Passif
- Exportation Temporaire
- Admission Temporaire

BACCALAURÉAT PROFESSIONNEL TRANSPORT	Code :AP1606TRS2	Session 2016	SUJET
Épreuve E2 : Épreuve d'étude de situations professionnelles	Durée : 3 h	Coefficient : 5	Page 20 sur 20