

DANS CE CADRE

Académie :	Session :
Examen :	Série :
Spécialité / option :	Repère de l'épreuve :
Épreuve / sous épreuve :	
NOM : (en majuscule, suivi s'il y a lieu, du nom d'épouse)	
Prénoms :	N° du candidat
Né(e) le :	(le numéro est celui qui figure sur la convocation ou liste d'appel)

NE RIEN ÉCRIRE

Appréciation du correcteur

Note:

Il est interdit aux candidats de signer leur composition ou d'y mettre un signe quelconque pouvant indiquer sa provenance

Matériel autorisé : Calculatrice électronique conformément à circulaire n° 99-186 du 16 novembre 1999

## BACCALAURÉAT PROFESSIONNEL TRANSPORT

Le sujet comprend 3 dossiers qui peuvent être traités de façon indépendante.

Vous exercez vos activités dans l'entreprise :



### TRANSPORTS LÉTIRÉLIE

Messagerie – Affrètement

Transport international  
Représentant en douane

Route de Paris - ZI Nord

**87000 LIMOGES**

Tél : + 33 5 55 01 23 45

Télécopie : + 33 5 55 98 76 54

[letirelie.transports@orange.fr](mailto:letirelie.transports@orange.fr)

Pages numérotées de 1 à 19

DOSSIERS	BARÈME
DOSSIER 1 : ORGANISATION D'UN TRANSPORT ROUTIER	40 POINTS
DOSSIER 2 : EXPORTATION AÉRIENNE	30 POINTS
DOSSIER 3 : DOUANE IMPORT	30 POINTS
<b>TOTAL</b>	<b>100 POINTS</b>

BACCALAURÉAT PROFESSIONNEL	Code : 1706TRS2/API1706TRS2	Session 2017	SUJET
Épreuve E2 : Épreuve d'étude de situations	Durée : 3 h	Coefficient : 5	Page 1/19

## NE RIEN ÉCRIRE DANS CETTE PARTIE

Dans le cadre de votre formation en milieu professionnel, vous êtes affecté(e) au service exploitation des Transports LÉTIRÉLIE, sous la responsabilité de M. Richard DIMAS.

Cette entreprise exerce deux activités principales :

- le transport routier national et international,
- la commission de transport à l'international et la représentation en douane.



### **ORGANISATION D'UN TRANSPORT ROUTIER**

Le 12 juin 2017, l'entreprise « **PAPIER INTERNATIONAL** » de Saint-Junien (87) vous confirme, ci-dessous par télécopie, une demande de transport pour l'Italie.

#### **PAPIER INTERNATIONAL**



Saillat-sur-Vienne  
87036 Saint-Junien  
Tél : +33 5 55 43 43 00  
Fax : +33 5 55 43 43 20

TRANSPORTS LÉTIRÉLIE  
Route de Paris – ZI du nord  
87000 LIMOGES

Objet : Demande de transport  
À l'attention de Richard Dimas - Sce expédition

Saint-Junien, le 12 juin 2017

Bonjour,

À la suite de notre conversation téléphonique de ce jour, je vous communique les éléments concernant :

#### **42 palettes de bobines papier - Référence 825-96**

- Chargement dans nos locaux, marchandise disponible le 14/06/17 à 7 h.
- Déchargement chez Geppeto Carta - Via Giuseppe Trionfale, 11 - Roma 00158 – ITALIA.
- Livraison le 16 juin à 17 heures.

Sincères salutations







L. Bennet

*Bennet*

BACCALAURÉAT PROFESSIONNEL	Code : 1706TRS2/AP1706TRS2	Session 2017	SUJET
Épreuve E2 : Épreuve d'étude de situations	Durée : 3 h	Coefficient : 5	Page 2/19

## NE RIEN ÉCRIRE DANS CETTE PARTIE

Afin de traiter cette demande, votre responsable met à votre disposition l'extrait de catalogue de « **PAPIER INTERNATIONAL** »

<p style="text-align: center;"><b>Bobine Référence 824-96</b></p> <ul style="list-style-type: none"> <li>▪ Diamètre : 80 cm</li> <li>▪ Hauteur : 100 cm</li> <li>▪ Masse : 0,400 t</li> </ul> <div style="text-align: center;">  </div> <p>Conditionnement :</p> <div style="text-align: center;">  </div> <p>Dimensions : 800 x 800 x 150 mm Masse unitaire : 20 kg</p>	<p style="text-align: center;"><b>Bobine Référence 825-95</b></p> <ul style="list-style-type: none"> <li>▪ Diamètre : 120 cm</li> <li>▪ Hauteur : 100 cm</li> <li>▪ Masse : 0,550 t</li> </ul> <div style="text-align: center;">  </div> <p>Conditionnement :</p> <div style="text-align: center;">  </div> <p>Dimensions : 1 200 x 1 200 x 150 mm Masse unitaire : 25 kg</p>	<p style="text-align: center;"><b>Bobine Référence 825-96</b></p> <ul style="list-style-type: none"> <li>▪ Diamètre : 80 cm</li> <li>▪ Hauteur : 130 cm</li> <li>▪ Masse : 0,600 t</li> </ul> <div style="text-align: center;">  </div> <p>Conditionnement :</p> <div style="text-align: center;">  </div> <p>Dimensions : 800 x 800 x 150 mm Masse unitaire : 20 kg</p>
--	---	--

Il vous communique également le planning des véhicules disponibles et leurs caractéristiques.

	LUNDI 12/06	MARDI 13/06	MERCREDI 14/06	JEUDI 15/06	VENDREDI 16/06
Tracteur PT-567-BB					
Tracteur RU-320-UN					
Porteur Benne 1589-CP-87					
Porteur Fourgon AC-145-MP					
Semi Tautliner BR-897-KL					
Semi Fourgon AW-854-LP					
Remorque Fourgon TU-198-HY					

Véhicule non disponible

BACCALAURÉAT PROFESSIONNEL	Code : 1706TRS2/AP1706TRS2	Session 2017	SUJET
Épreuve E2 : Épreuve d'étude de situations	Durée : 3 h	Coefficient : 5	Page 3/19

## NE RIEN ÉCRIRE DANS CETTE PARTIE

### CARACTÉRISTIQUES DES VÉHICULES

VÉHICULES	NOMBRE D'ESSIEUX	MCE <sup>(1)</sup>	MCV <sup>(2)</sup>	MASSE À VIDE	DIMENSIONS UTILES (LONGUEUR X LARGEUR X HAUTEUR)
Tracteur PT-567-BB	2	44 t		5 t	
Tracteur RU-320-UN	2	44 t		6 t	
Porteur Benne 1589-CP-87	3	38 t	26 t	9 t	7,10 x 2,50 x 2,60 m
Porteur Fourgon AC-145-MP	4	40 t	28 t	8 t	9 x 2,42 x 2,50 m
Semi Tautliner BR-897-KL	3		33 t	5 t	13,4 x 2,44 x 2,55 m
Semi Fourgon AW-854-LP	3		32 t	7 t	13,6 x 2,42 x 2,50 m
Remorque Fourgon TU-198-HY	2		4 t	4 t	8 x 2,44 x 2,50 m

<sup>(1)</sup> MCE – Masse en Charge maximale admissible de l'Ensemble

<sup>(2)</sup> MCV – Masse en Charge maximale admissible du Véhicule

**1. Présélectionnez les véhicules en fonction de leur disponibilité et/ou de la nature de la marchandise à transporter. Justifiez vos réponses.**

VÉHICULES	PRÉSÉLECTION		JUSTIFICATION
	OUI	NON	
Tracteur PT-567-BB	<input type="checkbox"/>	<input type="checkbox"/>	
Tracteur RU-320-UN	<input type="checkbox"/>	<input type="checkbox"/>	
Porteur Benne 1589-CP-87	<input type="checkbox"/>	<input type="checkbox"/>	
Porteur Fourgon AC-145-MP	<input type="checkbox"/>	<input type="checkbox"/>	
Semi Tautliner BR-897-KL	<input type="checkbox"/>	<input type="checkbox"/>	
Semi Fourgon AW-854-LP	<input type="checkbox"/>	<input type="checkbox"/>	
Remorque Fourgon TU-198-HY	<input type="checkbox"/>	<input type="checkbox"/>	

**NE RIEN ÉCRIRE DANS CETTE PARTIE**

**2. Calculez le métrage de plancher nécessaire. Justifiez votre raisonnement.**

**3. Notez la/les configuration(s) possible(s).**

**4. Vérifiez la faisabilité du transport en fonction de la charge utile.**

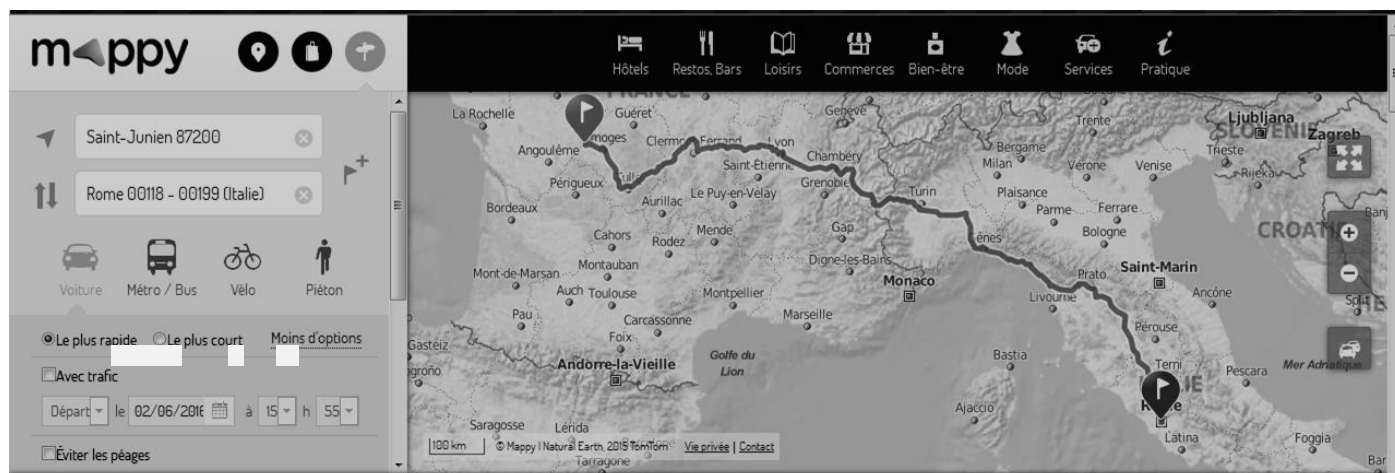
**5. Notez la configuration retenue en la justifiant.**

BACCALAURÉAT PROFESSIONNEL	Code : 1706TRS2/AP1706TRS2	Session 2017	SUJET
Épreuve E2 : Épreuve d'étude de situations	Durée : 3 h	Coefficient : 5	Page <b>5/19</b>

# NE RIEN ÉCRIRE DANS CETTE PARTIE

Vous devez maintenant calculer le coût de revient de ce transport. Vous avez à votre disposition un extrait du site internet mappy.fr, les coûts d'exploitation du CNR et des informations complémentaires.

## EXTRAIT DU SITE MAPPY.FR



### Itinéraire de Saint-Junien 87200 vers Rome 00118 - 00199 (Italie)

Distance  
1419,3 km

Péages  
523,6 €

## LES COÛTS DU CNR

### Exploitation

FORMULATION TRINOME DU PRIX DE REVIENT (en €)		Coût pour			Coût fixe
		1 km parcouru		1 heure de temps de service	journalier (véhicule + structure)*
		avec péages	hors péages		
Camion remorque	porte-voitures 35 t	0,531	0,470	22,68	186,37
	avec groupe réfrigérant 40 t	0,441	0,353	25,11	224,73
Tracteur semi-remorque	benne TP 40 t	0,592	0,578	18,53	144,69
	benne céréalière grand volume	0,599	0,542	22,28	163,24
	chassis porte-conteneur 40 t	0,532	0,482	20,90	167,77
	citerne inox liquide alimentaire 40 t cylindrique droite	0,475	0,406	24,56	170,76
Ensemble 40 t longue distance		0,435	0,355	23,11	163,64
Ensemble porteur 19 t régional		0,316	-	18,28	187,35
Ensemble articulé 40 t régional		0,433	0,383	19,69	162,77

\* Hors coûts salariaux du conducteur - Source : CNR

BACCALAURÉAT PROFESSIONNEL	Code : 1706TRS2/AP1706TRS2	Session 2017	SUJET
Épreuve E2 : Épreuve d'étude de situations	Durée : 3 h	Coefficient : 5	Page 6/19

# NE RIEN ÉCRIRE DANS CETTE PARTIE

## INFORMATIONS COMPLÉMENTAIRES

- Vitesse moyenne : 65 km/h
- Temps de chargement : 1 heure
- Temps de déchargement : 1 heure
- Temps de conduite : 9 heures par jour
- Temps de service : 10 heures par jour
- À l'international, le nombre de jours de service sera arrondi à la journée supérieure.

### 6. Calculez le coût de revient de cet envoi.

ÉLÉMENTS	CALCULS	RÉSULTATS
TEMPS DE PARCOURS		
TEMPS DE SERVICE		
TEMPS DE SERVICE EN NOMBRE DE JOURS		
COÛT KILOMÉTRIQUE		
COÛT HORAIRE		
COÛT JOURNALIER		
COÛT DE REVIENT		

Le taux de marge pour ce client est de 12 %.

### 7. Calculez le prix de vente de cette prestation.

--

## NE RIEN ÉCRIRE DANS CETTE PARTIE

Satisfait de votre travail, M. Richard DIMAS souhaite tester vos connaissances réglementaires relatives au contrat de transport et au contrat de commission.

### 8. Renseignez le QCM ci-dessous :

A. Lorsqu'il y a stipulation d'un contre-remboursement dans le cadre d'un transport en port dû, le transporteur reçoit du destinataire :

- le prix du transport uniquement.
- le prix de la marchandise uniquement.
- le prix du transport et de la marchandise.
- aucune somme.

B. En prenant appui sur le dossier « **PAPIER INTERNATIONAL** » (page 3) soumis au contrat type général, précisez à qui incombe :

1 - Le chargement :

- à l'expéditeur.
- au destinataire.
- au transporteur.

2 - L'arrimage des bobines réf 825- 85 :

- à l'expéditeur.
- au destinataire.
- au transporteur.

3 - Le déchargement :

- à l'expéditeur.
- au destinataire.
- au transporteur.

C. À la suite de ce transport Saint-Junien/Rome, un client italien souhaite que vous preniez en charge 20 palettes Europe de pièces automobiles le 19/06 à Rome pour une livraison à Milan, dans le nord de l'Italie.

- C'est possible, le transport routier de marchandises en Union Européenne est complètement libéralisé.
- C'est possible, uniquement si on respecte des règles spécifiques (nombre d'opérations, délais...).
- C'est possible, mais il faut une autorisation spéciale pour faire du transport intérieur dans un autre pays que celui d'enregistrement de l'entreprise de transport.

D. Dans la liste ci-dessous, ne font pas partie des obligations du transporteur :

- l'emballage, le conditionnement et l'étiquetage de la marchandise.
- la livraison de la marchandise, au lieu convenu, au bon destinataire, au bon moment.
- le contrôle du chargement du point de vue de la conservation de la marchandise.
- l'examen de l'état de la marchandise au chargement.
- le choix du véhicule.

E. La société a réalisé une opération d'affrètement pour le compte de son client « **PAPIER INTERNATIONAL** ». Elle a agi en tant que :

- affréteur.
- affrété.

BACCALAURÉAT PROFESSIONNEL	Code : 1706TRS2/AP1706TRS2	Session 2017	SUJET
Épreuve E2 : Épreuve d'étude de situations	Durée : 3 h	Coefficient : 5	Page 8/19



## NE RIEN ÉCRIRE DANS CETTE PARTIE

Votre responsable envisage de développer son activité en transport routier international vers d'autres pays. Il vous interroge sur vos connaissances en géographie.

### 9. Identifiez le pays correspondant à sa capitale.

CAPITALES	PAYS
AMSTERDAM	
ANDORRE-LA-VIEILLE	Andorre
ATHÈNES	Grèce
BERLIN	Allemagne
BERNE	Suisse
BRUXELLES	
BUCAREST	Roumanie
COPENHAGUE	
ÉREVAN	Arménie
HELSINKI	Finlande
LA VALETTE	
LISBONNE	
LJUBLJANA	Slovénie
LONDRES	Royaume-Uni
LUXEMBOURG	Luxembourg

CAPITALES	PAYS
MADRID	Espagne
MINSK	Biélorussie
OSLO	
PRAGUE	
PRISTINA	Kosovo
RIGA	Lettonie
ROME	Italie
SOFIA	Bulgarie
TALLINN	
TBILISSI	Géorgie
VADUZ	Liechtenstein
VARSOVIE	
VIENNE	Autriche
VILNIUS	
ZAGREB	Croatie

# NE RIEN ÉCRIRE DANS CETTE PARTIE




## EXPORTATION AÉRIENNE

Le 13 juin 2017, votre responsable, M. Dimas reçoit, par courriel, la demande de cotation suivante :

**De :** « Client Marcelin » marcelin.solaires@orange.fr **Date :** lun. 13/06/2017 10h52  
**À :** letirelie.transports.rdimas@orange.fr  
**Cc :**  
**Objet :** demande de cotation aérienne ref : 22/05 D15

**MARCELIN SA**  
« Créateurs solaires »  
830 rue Pierre Fabre  
87000 LIMOGES  
[marcelin.solaires@orange.fr](mailto:marcelin.solaires@orange.fr)  
Tél. : +33 5 55 99 98 97  
Fax : + 33 5 55 96 95 94



Monsieur,  
Vous trouverez ci-dessous les caractéristiques de notre envoi de marchandises à destination de Canberra en Australie. Veuillez nous communiquer la cotation aérienne au départ de Paris. La marchandise sera livrée par nos soins, le lundi 19 juin 2017 dans la matinée, dans vos locaux.

- Conditions de vente : CIP CANBERRA
- 40 colis de lunettes de soleil (contenant chacun 200 paires)
- Masse brute d'un colis : 11,920 kg
- Masse nette d'un colis : 10,200 kg
- Dimensions unitaires (L x l x h) : 50 cm x 25 cm x 20 cm
- Valeur marchandise : 15,00 € la paire
- Assurance et dédouanement par vos soins
- Demande particulière : regrouper les 40 colis dans une ou plusieurs caisses américaines de votre choix (sens de chargement à plat)
- Livraison : le lundi 26 juin 2017 au plus tard
- Destinataire : OPTIC STORE, 148 BUNDA ST.; CANBERRA ACT 2601, AUSTRALIE

Cordialement,  
Éric Marcelin


BACCALAURÉAT PROFESSIONNEL	Code : 1706TRS2/AP1706TRS2	Session 2017	SUJET
Épreuve E2 : Épreuve d'étude de situations	Durée : 3 h	Coefficient : 5	Page 10/19

# NE RIEN ÉCRIRE DANS CETTE PARTIE

Votre responsable vous remet les caractéristiques de la caisse américaine retenue pour cet envoi.

## CARACTÉRISTIQUES DE LA CAISSE AMÉRICAINE

*Carton renforcé pour l'expédition et l'exportation de charges lourdes et/ou fragiles jusqu'à 600 kg. Extrêmement résistante, la caisse carton triple cannelures assure une triple protection pour emballer, protéger et expédier tous les produits lourds, fragiles, volumineux.*



Caisse carton triple cannelures AMBOX XL :

Dimensions **intérieures** : 117 cm x 77 cm x 84 cm

- Matière : carton triple cannelures
- Tare de la caisse : 8,890 kg
- **Épaisseur** : 15 mm
- Extérieur : kraft
- Charge utile : 600 kg

Ces caisses américaines sont placées sur des palettes perdues de dimensions : 120 x 80 x 13 cm

Masse : 10 kg

Volume : 124 800 cm<sup>3</sup>

**10. Définissez le nombre de caisses américaines nécessaires, par le calcul ou par un schéma, en optimisant votre solution.**

BACCALAURÉAT PROFESSIONNEL	Code : 1706TRS2/AP1706TRS2	Session 2017	SUJET
Épreuve E2 : Épreuve d'étude de situations	Durée : 3 h	Coefficient : 5	Page 11/19

## NE RIEN ÉCRIRE DANS CETTE PARTIE

Vous prenez connaissance des renseignements concernant le traitement de l'expédition. Les établissements Marcelin bénéficient du statut de « chargeur connu ».

### RENSEIGNEMENTS CONCERNANT LE TRAITEMENT DE L'EXPÉDITION

#### Extrait Tarifaire AIR France

De : Roissy CDG  
CANBERRA  
CBR

M	85,00 €
N	29,75 €
+ 45	22,48 €
300	18,19 €
500	12,99 €

Rapport masse/volume : 1 kg = 6 dm<sup>3</sup>

#### Barème des frais annexes :

- Frais fixes d'établissement de la LTA (AWA) : 18,00 €
- Frais d'enregistrement compagnie aérienne (CHC) : 22,00 €
- Surcharge de fuel (MYC) : 0,98 € par kg de masse taxable
- Taxe risque de guerre (IRC) : 0,18 € par kg de masse taxable
  - Minimum : 9,00 €
  - Maximum : 465,00 €

#### Tarifification des mesures de sûreté du fret aérien (SCC) :

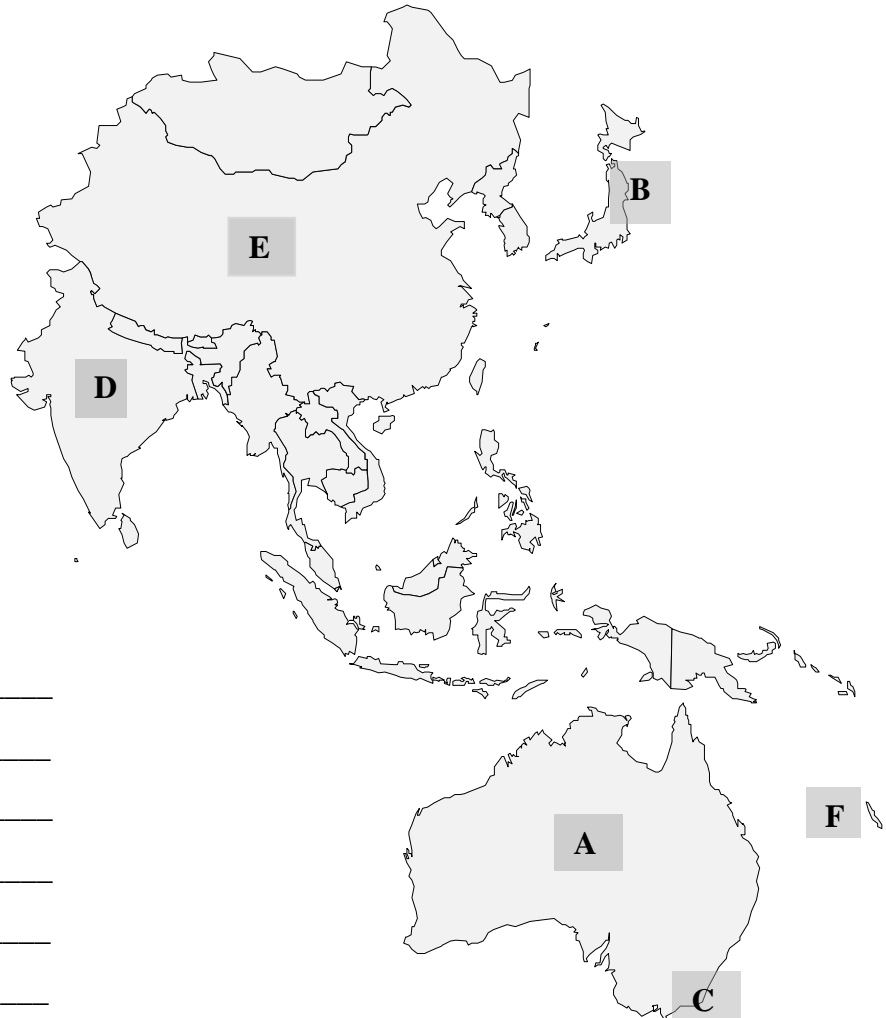
- Si le fret est sécurisé (avec certificat de sûreté) :
  - ✓ 0,018 € par kg de masse réelle
  - ✓ Minimum : 5,25 €
  - ✓ Maximum : 20,00 €
- Si le fret n'est pas sécurisé (sans certificat de sûreté) :
  - ✓ 0,27 € par kg de masse réelle
  - ✓ Minimum : 27,00 €
  - ✓ Maximum : 540,01 €

### 11. Déterminez le montant du transport aérien hors frais annexes.

# NE RIEN ÉCRIRE DANS CETTE PARTIE

12. Déterminez le prix du transport aérien, frais annexes inclus.

13. Repérez la ville de Canberra, l'Australie, la Chine, le Japon, la Nouvelle Calédonie, l'Inde et renseignez la liste ci-dessous.



- A : \_\_\_\_\_
- B : \_\_\_\_\_
- C : \_\_\_\_\_
- D : \_\_\_\_\_
- E : \_\_\_\_\_
- F : \_\_\_\_\_

# NE RIEN ÉCRIRE DANS CETTE PARTIE



## DOUANE IMPORT

Quelques jours plus tard, M. Dimas vous demande de traiter un dossier à l'import.

Notre client Marcelin importe tous les verres optiques de Chine.

Le 20 juin 2017, notre correspondant, GUANGSAUS, commissionnaire chinois situé à Pékin, nous informe de l'expédition de marchandises, transportées par la compagnie Air China.

Vous disposez de la facture INV751JUN12-023/450

Commercial invoice : INV751JUN12-023/450	Invoice dated : June 15 th, 2017		
Our Reference : ECSR5036F	Your reference:		
Shipper :	Consignee :		
China International Optical Center Shunyi new hall Beijing (Pékin) Chine <a href="mailto:cio@yiyun.cn">cio@yiyun.cn</a> Tél : + 86 10 8460 9999	MARCELIN SA "Créateur solaires" 830 rue Pierre Fabre 87000 LIMOGES <a href="mailto:marcelin.solaires@orange.fr">marcelin.solaires@orange.fr</a> Tél : + 33 5 55 99 98 97 Fax : + 33 5 55 96 95 94		
Terms of delivery : CIP ROISSY CDG	Country of origin : Chine		
Gross weight : 475 kg	Final destination : Limoges France		
Net weight : 422 kg	Packing : 1 parcel		
Quantity	Ref	UnitPrice YUAN (¥)	Amont YUAN (¥)
80	V 135.2	35,00	2 800,00
80	V 178.9	45,00	3 600,00
40	V 351.0	57,50	2 300,00
TOTAL			8 700,00

**COURS DE LA MONNAIE CHINOISE YUAN (CNY) : 1 CNY = 0,13701 EUR**

BACCALAURÉAT PROFESSIONNEL	Code : 1706TRS2/API706TRS2	Session 2017	SUJET
Épreuve E2 : Épreuve d'étude de situations	Durée : 3 h	Coefficient : 5	Page 14/19

# NE RIEN ÉCRIRE DANS CETTE PARTIE

Vous disposez également de tous les éléments concernant cette importation pour vous permettre de contrôler la note de valeurs et la liquidation douanière.

Assurance	70,00 CNY
Transport aérien, dont : <ul style="list-style-type: none"> <li>▪ 85 % de transport aérien pays tiers</li> <li>▪ 10 % de transport union européenne (autre que France)</li> <li>▪ 5 % de transport français</li> </ul>	1750,00 CNY
Frais aéroportuaires et de transit réalisés par Air line Transit, situé à Roissy	120,00 EUR
Transport routier Roissy - Limoges et déchargement	80,00 EUR



Options d'affichage :	Base légale <input checked="" type="checkbox"/>	Dates de validité <input type="checkbox"/>	Région d'application <input type="checkbox"/>	Code taxe <input type="checkbox"/>	N° contingent <input type="checkbox"/>	Compétence bureau <input type="checkbox"/>	Pays Exclus <input type="checkbox"/>
-----------------------	---	--	---	------------------------------------	--	--	--------------------------------------

Droits de douane, droits additionnels et autres droits	Domaines des fiscalités (TVA, taxes...)	Antidumping et mesures de rétorsions	Prohibitions Restrictions	Octroi de mer	Restitutions agricoles	Statistiques
--	---	--------------------------------------	---------------------------	---------------	------------------------	--------------

### 103 - Droit pays tiers

Nomenclature : <b>70 01 00 91 00</b> Renvoi : <b>TN701</b> : Conformément au règlement (UE) n° 692/2014 du Conseil (JO L 183, p. 9), il est interdit d'importer <sup>±</sup> Pays : <b>CN - ( 1011 - ERGA OMNES )</b> Préférences : <b>100 - Taux de droit de douane erga omnes appliqués aux pays tiers</b> <b>150 - Admission dans un code NC subordonnée à la présentation d'un certificat particulier</b> <b>3%</b> Base légale : <b>R2261/98</b>						
---	--	--	--	--	--	--

Droits de douane, droits additionnels et autres droits	Domaines des fiscalités (TVA, taxes...)	Antidumping et mesures de rétorsions	Prohibitions Restrictions	Octroi de mer	Restitutions agricoles	Statistiques
--	---	--------------------------------------	---------------------------	---------------	------------------------	--------------





### TVA - TVA normale

Nomenclature : <b>70 01 00 91 00</b> Renvoi : <b>TN701</b> : Conformément au règlement (UE) n° 692/2014 du Conseil (JO L 183, p. 9), il est interdit d'importer <sup>±</sup> Pays : <b>CN - ( FR01 - UE + pays tiers + DOM )</b> Territoire d'application : <b>METRO - France continentale, Corse.</b> <b>20%</b> Base légale : <b>CGI 0278</b>						
---	--	--	--	--	--	--

BACCALAURÉAT PROFESSIONNEL	Code : 1706TRS2/AP1706TRS2	Session 2017	SUJET
Épreuve E2 : Épreuve d'étude de situations	Durée : 3 h	Coefficient : 5	Page 15/19

## NE RIEN ÉCRIRE DANS CETTE PARTIE

**14. Indiquez, pour cette importation de Chine, le nom des intervenants, leur fonction ainsi que leur localisation et renseignez le tableau ci-dessous.**

	INTERVENANT À L'AÉROPORT DE DÉPART		INTERVENANT À L'AÉROPORT D'ARRIVÉE		
NOM	NOM	NOM	NOM	NOM	NOM
QUALITÉ	QUALITÉ	QUALITÉ	QUALITÉ	QUALITÉ	QUALITÉ
VILLE	VILLE	VILLE	VILLE	VILLE	VILLE
PAYS	PAYS	PAYS	PAYS	PAYS	PAYS

**15. Repérez les renseignements douaniers collectés sur RITA et applicables à cet envoi.**

TARIC	
PAYS DE PROVENANCE DE LA MARCHANDISE	
TAUX DE DROIT DE DOUANE APPLICABLE	
TAUX DE TVA APPLICABLE	



## NE RIEN ÉCRIRE DANS CETTE PARTIE

Vous disposez de l'extrait de l'imprimé du DAU :

41 Unités supplémentaires	42 Prix de l'article	43 Code ME
	Code MS	45 Ajustement
	46 Valeur statistique <b>1 180</b>	
Report de paiement	49 Identification de l'entrepôt	

**16. Vérifiez l'exactitude de la valeur statistique. Présentez vos calculs.**

À l'issue de la saisie sur DELTA, les montants des droits de douane s'élèvent à 35 €

**17. Vérifiez l'exactitude de ce montant en présentant tous les calculs.**

# NE RIEN ÉCRIRE DANS CETTE PARTIE

M. Dimas vous fournit un tableau des incoterms et souhaite tester vos connaissances en matière de transport international et de dédouanement.

## RÉPARTITION DES COÛTS – INCOTERMS 2010

SIGLE	EMBALLAGE	CHARGEMENT (camion, wagon,) EMPOTAGE (conteneur) en USINE ou ENTREPOT DEPART	ACHEMINEMENT au PORT à l'AEROPORT, à la PLATEFORME de GROUPEGE au TERMINAL DEPART	FORMALITES DOUANIERES EXPORT	PASSAGE PORTUAIRE, AERO-PORTUAIRE, PLATE-FORME de GROUPEGE TERMINAL DEPART	TRANSPORT PRINCIPAL	ASSURANCE TRANSPORT	PASSAGE PORTUAIRE, AEROPORTUAIRE, PLATE-FORME de GROUPEGE TERMINAL ARRIVEE	FORMALITES DOUANIERES IMPORT DROITS ET TAXES	ACHEMINEMENT à L'USINE ou ENTREPOT ARRIVEE	DECHARGE MENT en USINE ou ENTREPOT ARRIVEE
EXW	■	□	□	□	□	□	□	□	□	□	□
FCA	■	■	■	■	□	□	□	□	□	□	□
CPT	■	■	■	■	■	■	□	□	□	□	□
CIP	■	■	■	■	■	■	■	□	□	□	□
DAT	■	■	■	■	■	■	■	■	□	□	■
DAP	■	■	■	■	■	■	■	■	□	■	□
DDP	■	■	■	■	■	■	■	■	■	■	□
FAS	■	■	■	■	□	□	□	□	□	□	□
FOB	■	■	■	■	■	□	□	□	□	□	□
CFR	■	■	■	■	■	■	□	□	□	□	□
CIF	■	■	■	■	■	■	■	□	□	□	□

■ Coût direct à la charge du vendeur

□ Coût direct à la charge de l'acheteur

## NE RIEN ÉCRIRE DANS CETTE PARTIE

### 18. Répondez au questionnaire en cochant la ou les réponse(s) exacte(s).

A. Indiquez, parmi les incoterms suivants, celui (ceux) jamais utilisé(s) en transport aérien.

- CFR
- DDP
- FOB
- CIP

B. Identifiez les documents qui permettent de justifier l'origine de la marchandise.

- EUR 1
- DAU
- DEB
- T1
- Certificat d'origine

C. Indiquez les valeurs à prendre en compte pour dédouaner des marchandises à l'export.

- La valeur transactionnelle
- La valeur imposable
- La valeur statistique
- La valeur en douane
- La valeur première destination

D. Depuis 2010, indiquez le nombre d'incoterms en usage depuis 2010.

- 11
- 12
- 13

E. Précisez ce qu'est le DAU EXA.

- Une déclaration d'exportation de marchandises.
- Une déclaration de transit.
- Un titre de transport.

F. Indiquez si le carnet TIR :

- est payant.
- est délivré par le service des douanes.
- peut être délivré par l'AFTRI en France.
- matérialise le régime douanier qui permet le transport de marchandises sous douane.
- permet à l'importateur de ne pas payer de droits de douane à destination.

BACCALAURÉAT PROFESSIONNEL	Code : 1706TRS2/AP1706TRS2	Session 2017	SUJET
Épreuve E2 : Épreuve d'étude de situations	Durée : 3 h	Coefficient : 5	Page 19/19